

**CHÀO MỪNG QUÍ THẦY CÔ
VỀ DỰ GIỜ THĂM LỚP**

Môn: Toán

Bài 19: Phép cộng số thập phân

Lớp 5B

GV: Nguyễn Thị Liên

Năm học: 2024 – 2025


TRÒ CHƠI

GIỚI CỬU



NÔNG TRẠI

BẮT ĐẦU



Câu 1 :

Tính tỉ số phần trăm của hai số 29 và 40



A



B



C



D 72,5 %



Câu 2

Tính giá trị biểu thức: $18,36 : 1,2 \times 5$



A 76,5




B



C



D



Câu 3

Tính 30 % của 110



A




B



C 33



D



Câu 4 : $12\text{cm} = \underline{\hspace{2cm}} \text{ m}$



1,02




0,12



102



10,2





BÀI 43: THỰC HÀNH VÀ TRẢI NGHIỆM SỬ DỤNG MÁY TÍNH CẦM TAY





BÀI 43:





HOẠT ĐỘNG THỰC HÀNH



Bài 1: Cô Hương đã mua 7 chiếc vòng, mỗi chiếc có giá 25 000 đồng. Hỏi cô Hương cần trả chúng mình bao nhiêu tiền?

Bài giải

Cô Hương cần trả chúng mình số tiền là:

$$25\ 000 \times 7 = 175\ 000 \text{ (đồng)}$$

Đáp số: 175 000 đồng

Bài 2: Chúng mình áp dụng chương trình khuyến mại giảm giá 20% cho bất kì ai mua nhiều hơn 10 chiếc vòng. Thầy Hải đã mua 18 chiếc vòng, mỗi chiếc có giá 25 000 đồng. Hỏi thầy Hải cần trả chúng mình bao nhiêu tiền?

Bài giải




Thầy Hải cần trả số tiền là :

$$25\ 000 \times 18 = 450\ 000 \text{ (đồng)}$$

Vì được giảm giá 20% nên số tiền cuối cùng thầy phải trả là:

$$450\ 000 - (450\ 000 \times 20\%) = 360\ 000 \text{ (đồng)}$$

Đáp số 360 000 (đồng)



Bài 3: Những chiếc vòng còn lại của chúng mình có một doanh nghiệp địa phương mua với giá tổng cộng là 3 000 000 đồng. Hỏi mỗi chiếc vòng đó giá bao nhiêu tiền ?

Bài giải

Số vòng còn lại của các bạn là:

$$100 - 7 - 18 = 75 \text{ (chiếc)}$$

Mỗi chiếc vòng có giá tiền là:

$$3\,000\,000 : 75 = 40\,000 \text{ (đồng)}$$

Đáp số: 40 000 đồng



Bài 4 : Ban giám hiệu ủng hộ dự định quyên góp từ thiện của lớp mình bằng cách góp thêm vào quỹ một số tiền bằng 20% doanh thu bán vòng trang sức của lớp. Tính số tiền mà lớp mình đã quyên góp được cho quỹ hỗ trợ trẻ em nghèo ở vùng cao ?

Bài giải

Số tiền bán vòng của lớp mình là:

$$175\ 000 + 360\ 000 + 3\ 000\ 000 = 3\ 535\ 000 \text{ (đồng)}$$

Số tiền mà BGH ủng hộ thêm là:

$$3\ 535\ 000 \times 20\% = 707\ 000 \text{ (đồng)}$$

Vậy lớp mình đã ủng hộ cho trẻ em vùng cao số tiền là:

$$3\ 535\ 000 + 707\ 000 = 4\ 242\ 000 \text{ (đồng)}$$

Đáp số: 4 242 000 (đồng)





VẬN DỰNG



Vừa rồi để trang trí thư viện lớp học cô đã mua 35 cuốn truyện , mỗi cuốn 5 000 đồng. Cô bán hàng giảm 5% số tiền. Tính số tiền cô bán hàng giảm khi mua truyện cho tủ sách thư viện lớp học của mình.



CHÚC CÁC EM
HỌC TỐT

